



Lente Loopspel

Leuk dat je het Lente loopspel hebt gedownload!

Dit loopspel is geschikt voor **groep 3**. Voordat je start knip/snijd je de 24 opdrachtkaarten los. Hang de opdrachtkaarten verdeeld over het plein, de gymzaal, de gang of het (speel)lokaal op. Leerlingen werken bij deze opdracht in tweetallen.

Voordat je start dobbelt ieder tweetal met 2 dobbelstenen. Het getal dat je dobbelt is je startgetal, daar begin je. Zoek dit getal op het plein en maak de opdracht. Schrijf het juiste antwoord op het antwoordblad, bij het goede getal. Ren hierna naar het volgende getal, na opdracht 3 komt opdracht 4, etc. Na opdracht 24 ga je verder met opdracht 1.

Bij dit spel oefenen leerlingen met:

- splitsen van getallen 7, 8, 9.
- geldsommen t/m €20.
- klokkijken: halve uren.
- plaatsen van getallen op de getallenlijn.
- woorden met tweetekenklanken.
- lezen van langere woorden (boekenkast, kippenhok).

Meer bewegend leren?

www.beweegspellen.nl

Antwoord: heb jij ook de lentekriebels?



1.

8



2




6

h

5

w

2.



k_kentjes


eu

ee

ui

e

3.




half 3

b

half 2

m

4. Hoeveel geld krijg je terug?




€9

r

€10

j

5.




vlinder

i

vriend

u

6. Bij welk getal zit de bij?



22

s

27

j

7.

9




3




5



6



8.




v_lentje


ui



eu



9.



half 12

k

half 11

n

10. Hoeveel geld krijg je terug?



€6

d

€4

w

11.



boekenkast

boerderij

a

e

12. Bij welk getal zit de bij?



32

l

23


k

13.

7



4



4

a

3

e

14.



bl _ men


oe

n

ou

t

15.



half 1

s

half 2

t

16. Hoeveel geld krijg je terug?




€2

i

€4

e

17.




kippenhok

k

kattenluik

t

18. Bij welk getal zit de bij?



54

s

45


r

19.

9



4



4



5



20.




vogelh_sje


ui



eu



21.



half 7

d

half 8

b

22. Hoeveel geld krijg je terug?




€2

e

€1

i

23.



bloempot

S

bloembol

L

24. Bij welk getal zit de bij?



31

S

38

t

